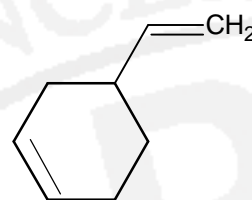
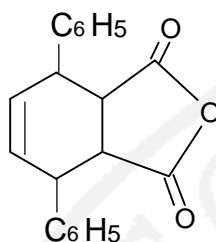
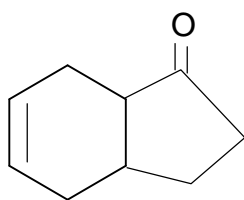


Síntesis Orgánica

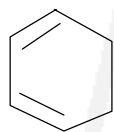
Taller Módulo 7

Profesor Luis Abel Rincón Mora

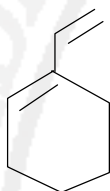
- 1.- Compare la formación de un enlace C=C utilizando la deshidratación ácida de un alcohol asimétrico y utilizando la reacción de Wittig, Explique en forma satisfactoria
- 2.- ¿Los átomos de hidrógeno del acetileno son más o menos ácidos que los del etileno? ¿Por qué?
- 3.- Para cada una de las siguientes estructuras, dibuje el dieno y el dienófilo que les pueden dar origen



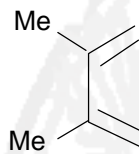
- 4.- Dibuje las estructuras que se forman cuando el trans 1,2- diciano etileno reacciona con cada uno de los siguientes compuestos



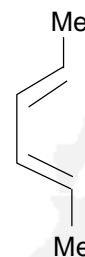
a



c



d



e