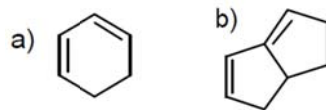
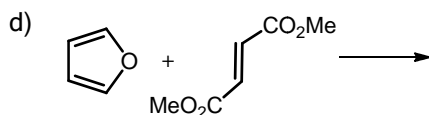
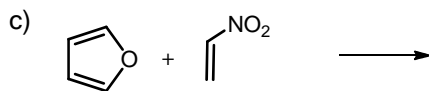
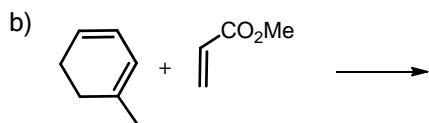
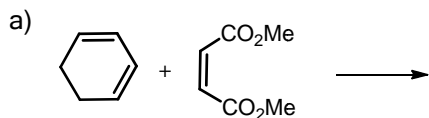


1- Dibujad el/los producto/s de adición de los siguientes dienos con: a) Br_2 y b) H_3O^+



2- Completad las siguientes reacciones:



3- Describid los reactivos necesarios para obtener los productos siguientes mediante reacciones de Diels-Alder:

